

امنة بن محمد الله

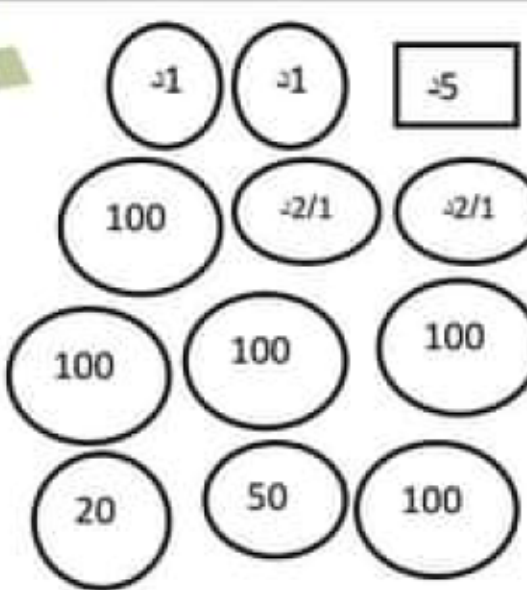

تقييم لمكتسبات تلاميذ السنة الثالثة

الثلاثي الثاني

المادة: الرياضيات

السند 1:

بمناسبة عطلة نصف الثلاثي الثاني قامت مدرستنا برحلة إلى مدينة توزر فأحضر كل من وسيم و سليمة و فرح مبالغ مالية لصرفها أثناء الرحلة.

المبلغ الذي يملكه وسيم	المبلغ الذي تملكه سليمة	المبلغ الذي تملكه فرح
		
	6300مي	8745مي

1. أحسب المبلغ الذي يملكه وسيم.
2. أفكك مبلغ سليمة إلى أقل عدد من القطع النقدية.
3. أكمل رسم القطع النقدية الناقصة في مبلغ فرح.

زار الأطفال المدينة العتيقة لولاية توزر فشري وسيم مزهرية ب 3470 مي و 3 تحف ب 720مي الواحدة.

أحسب ثمن التحف

.....

أحسب ثمن مشتريات وسيم

.....

أحسب المبلغ الذي بقي له

.....

شرت سليمة سلّة كبيرة من السّعف ب 1450 مي و 4 سلال صغيرة ب 830 مي الواحدة.

أبحث عن ثمن السّلال الصّغيرة

.....

أحسب ثمن المشتريات

.....

أبحث عن المبلغ الذي بقي لها

.....

و ابتاعت فرح 5 أساور ب 685 مي الواحدة و قلادة ب 3650 مي.

أحسب ثمن الأساور

.....

أحسب ثمن المشتريات

.....

أحسب ما بقي لها

.....

أحسب ما بقي للأطفال الثلاثة

.....

السند 3:

شري الأطفال بما تبقى لهم مربكة لأخيهم الصغير ب2720 مي و دمية لأختهم و أرجع لهم البائع 450 مي .

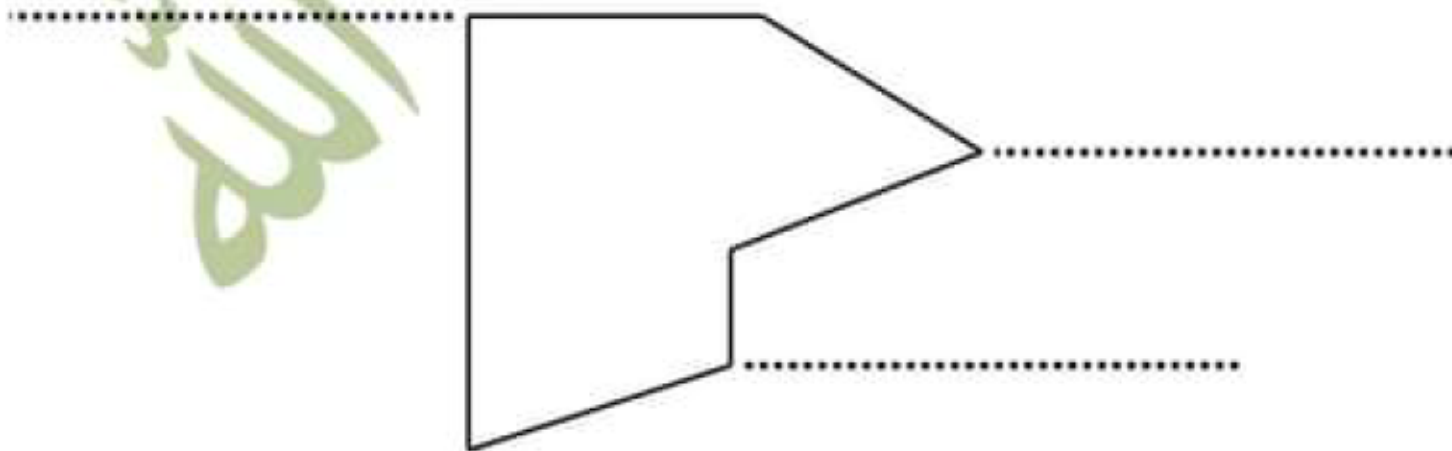
أطرح سؤالاً يتطلب إنجازه عمليتين

.....

أجيب عن هذا السؤال

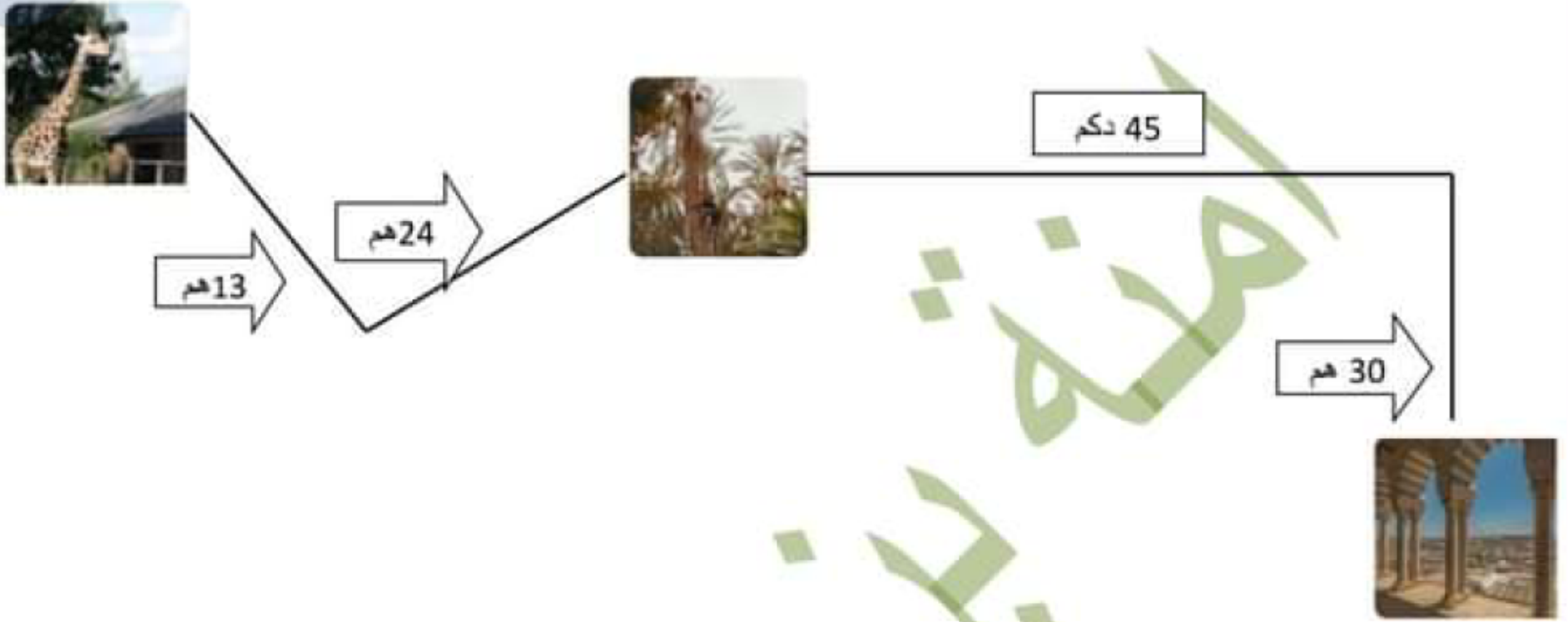
.....

هذا هو شكل المربكة التي اختارها الأطفال لأخيهم



• أكمل بكتابة الإسم المناسب للزاوية

بعد التّجوال في أرجاء المدينة العتيقة، زار الأطفال واحات الجريد و حديقة الحيوانات.



• أحسب بحساب المتر

المسافة الفاصلة بين المدينة العتيقة و الواحات .....

المسافة الفاصلة بين الواحات و حديقة الحيوانات .....

المسافة الفاصلة بين المدينة العتيقة و حديقة الحيوانات .....

# الإِطْلَاح

نَجْحَنِي

السند 1:

المبلغ الذي يملكه وسيم	المبلغ الذي تملكه سليمة	المبلغ الذي تملكه فرح
8570 مي	6300 مي	8745 مي

السند 2:

أحسب ثمن التحف

$$2160 = 3 \times 720 \text{ مي}$$

أحسب ثمن مشتريات وسيم

$$5630 = 2160 + 3470 \text{ مي}$$

أحسب المبلغ الذي بقي له

$$8570 - 5630 = 2940 \text{ مي}$$

أبحث عن ثمن السلال الصغيرة

$$4 \times 830 = 3320 \text{ مي}$$

أحسب ثمن المشتريات

$$1450 + 3320 = 4770 \text{ مي}$$

أبحث عن المبلغ الذي بقي لها

$$6300 - 4770 = 1530 \text{ مي}$$

أحسب ثمن الأساور

$$5 \times 685 = 3425 \text{ مي}$$

أحسب ثمن المشتريات

$$3650 + 3425 = 7075 \text{ مي}$$

أحسب ما بقي لها

$$8745 - 7075 = 1670 \text{ مي}$$

أحسب ما بقي للأطفال الثلاثة

$$2940 + 1530 + 1670 = 6140 \text{ مي}$$

السؤال 3:

السؤال هو : ماهو ثمن الدمية؟

المرحلة الأولى :

ثمن المربكة و الدمية معا

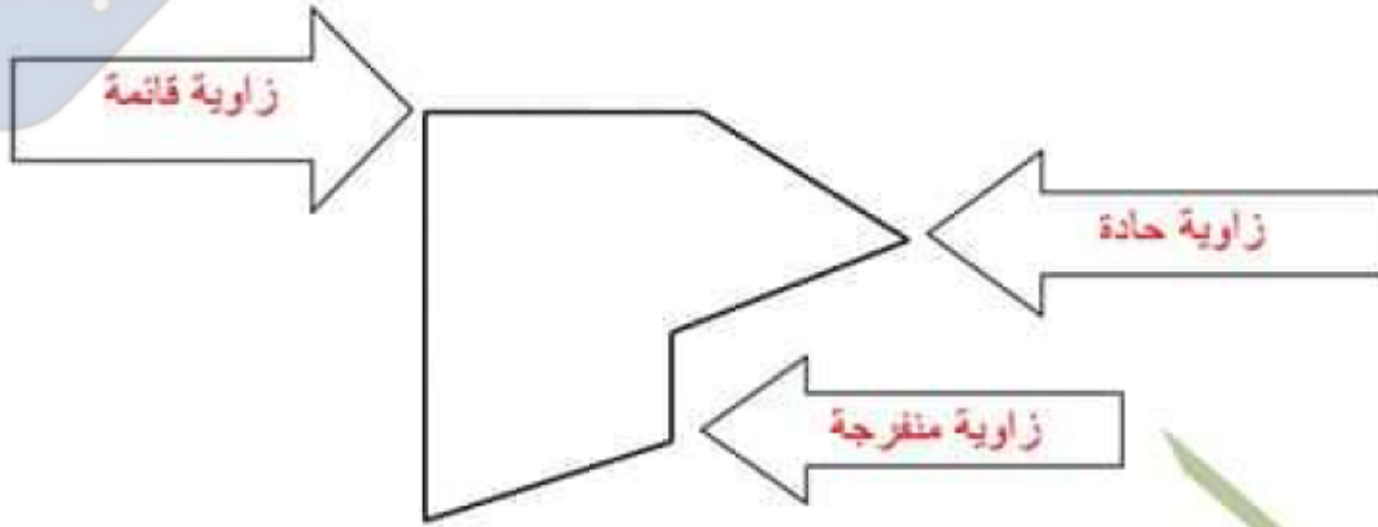
$$6140 - 450 = 5690 \text{ مي}$$

المرحلة الثانية :

ثمن الدمية

$$5690 - 2720 = 2970 \text{ مي}$$

هذا هو شكل المربكة التي اختارها الأطفال لأخيهم



السؤال 4:

30 هم = 3000م      45 دكم = 450م      24 هم = 2400م      13 هم = 1300م

المسافة الفاصلة بين المدينة العتيقة و الواحات  $3450 = 450 + 3000$ م

المسافة الفاصلة بين الواحات و حديقة الحيوانات  $3700 = 1300 + 2400$ م

المسافة الفاصلة بين المدينة العتيقة و حديقة الحيوانات  $7150 = 3700 + 3450$ م