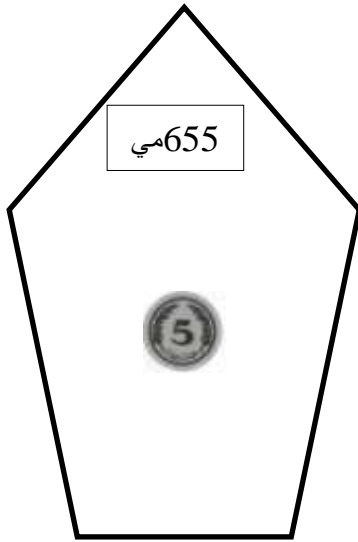



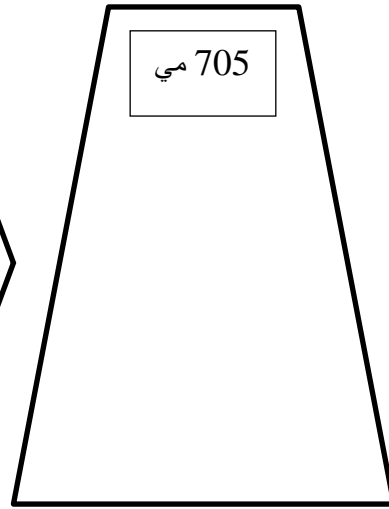
مع 3



محمد



عادل



أحمد

السند 1

أحمد و عادل و محمد ثلاثة إخوة، يملك كل طفل مبلغاً مالي في حصالته.

التعليمة: 1

أتمل نفود أحمد بأقل عدد ممكن من القطع النقدية داخل الحصالة.

السند 2

دَهَبَ أحمد إلى المكتبي و اشترى قلمًا 250 مي و مسطرةً 255 مي

أحسب ثمر المشتريات

..... = =

مع 1

مع 2 ب

التعليمة: 2-2

أحسب المبلغ الذي بقي لأحمد

..... =

مع 1

مع 2 ج

السند 3

أتمل حصالة عادل و أعدد السؤال المناسب و أجب عليه

..... ؟

مع 1



دَهَبَ عادل إلى المكتبية و اشترى بمحاة 250 مي و قصةً 350 مي

التعليمة: 1-3أحسب ثمر المشتريات

..... =

مع 1

مع 2 ب

التعليمة: 2-3أحسب المبلغ الذي بقي لعادل


..... =

مع 1

مع 2 ج

السند 4

نَجْهِنِي

<p>بـ 210 مي</p>	<p></p> <p>ذَهَبَ مُحَمَّدٌ إِلَى الْكَتَابَةِ وَ اشْتَرَا مَقْصَ 225 مي وَ لَصِقَ 210 مي</p> <p>التعليمية: 1-4 أَتَمَّلُ نَهْبِيلَ الْمَبْلُغِ الَّذِي يَحِلُّهُ مُحَمَّدٌ بِأَقَلِّ عَدَدٍ مِمَّنْ أَلْقَطَعَ النَّقْدِيَّةَ دَاخِلَ الْحَصَالَةِ.</p> <p>التعليمية: 2-4 أَحْسِبُ ثَمْرَ الْمُشْتَرِيَّاتِ</p> <p>..... =</p> <p>..... =</p> <p>التعليمية: 3-4 أَحْسِبُ الْمَبْلُغَ الَّذِي بَقِيَ لِمُحَمَّدٍ . . .</p> <p>..... =</p>	<p>مع 1 <input type="checkbox"/></p> <p>مع 2 ب <input type="checkbox"/></p> <p>مع 1 <input type="checkbox"/></p> <p>مع 2 ج <input type="checkbox"/></p>
	<p>السند 5 أَرَادَتِ الْأُمُّ مَعْرِفَةَ مَنْ جَمَعَ أَكْبَرَ مَبْلُغٍ مَالِي.</p> <p>التعليمية: 1-5 أَرْتَبِ الْمَبَالِغَ الثَّلَاثَةَ تَصَاعُدِيًّا</p> <p>.....</p> <p>أَرْتَبِ الْمَبَالِغَ الثَّلَاثَةَ تَنَازُلِيًّا</p> <p>.....</p> <p>أَرْتَبِ الْمَبَالِغَ الْمُتَبَقِيَّةَ لِلْأَطْفَالِ الثَّلَاثَةِ تَصَاعُدِيًّا</p> <p>.....</p>	<p>مع 2 أ <input type="checkbox"/></p>
	<p>التعليمية: 2-5 أَتَأَمَّلُ شَكْلَ كُلِّ حَصَالَةٍ وَ أَذْكَرُ اسْمَ الْمُضْلَعِ الَّذِي تُمَثِّلُهُ</p> <p>حَصَالَةُ أَحْمَدَ</p> <p>حَصَالَةُ عَادِلَ</p> <p>حَصَالَةُ مُحَمَّدَ</p>	<p>مع 4 <input type="checkbox"/></p>
	<p>أَيُّ الْأَطْفَالِ يُمْكِنُهُ شِرَاءُ كُرَّاسٍ تُثَمَّنُهَا بِـ 220 مي بِالْمَبْلُغِ الْمُتَبَقِي لَه؟</p> <p>.....</p>	<p>مع 5 <input type="checkbox"/></p>

معيَار التَّميِزِ	معايير الحد الأدنى							مستويات التملك
	مع 4	مع 3	مع 2 ج	مع 2 ب	مع 2 أ	مع 1 ب	مع 1 أ	
مع 5	0	0	0	0	0	0	0	انعدام التملك - - -
2	0.5	0.5	1	1	0,5	0.25	0.25	دون التملك الأدنى +
	1	1	2	2	1	0.5	0.5	التملك الأدنى ++
4	1.5	1.5	3	3	1,5	0.75	0.75	التملك الأقصى +++

