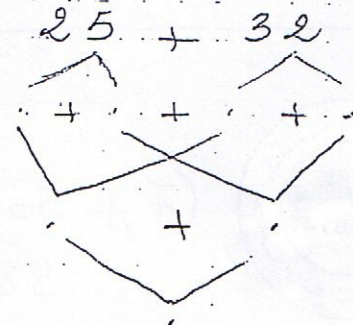


تَعَدَّ نِهَايَةَ الْعَامِ الْجَرَّاسِي زَارَ الْأَطْفَالَ صِبْعَةَ حَدِّهِمْ  
فَسَاطَعُوا 32 دَجَاجَةً وَ 25 بَطَّةً  
① فَحَسَبَتْ عَدَدَ الطُّيُورِ

$$\begin{array}{r} + \\ \hline = \end{array}$$

② أَكْتُبُ الْعَدَدَ النَّاقِصَ



طَلَبَتْ الْجَدَّةُ مِنْ أَحْفَادِهَا أَنْ يَجْمَعُوا الْبَيْضَ  
جَمَعَ سَامِي 31 بَيْضَةً وَسَلَمَى 14 بَيْضَةً وَخَلِيلٌ 19 بَيْضَةً  
③ مَا هُوَ عَدَدُ الْبَيْضِ

$$\begin{array}{r} + \\ + \\ \hline = \end{array}$$

④ أَزَيِّبُ أَعْدَادَ الْعَمَلِيَّةِ تَنَازُلِيًّا

أَحَدَ الْأَطْفَالَ الْبَيْضَ لِبَيْعِهِ ثَمَنُ الْبَيْضَةِ 85 هَي

⑤ أَتَعَيَّنُ بِمَا يَنَاسِبُ

$$+ \cdot = 85 \quad + 25 = 85 \quad + 50 = 85$$



مكتبة الخدمات

انعام جامع التوبة بالمنستير



# ٦) أَتَعْلَى الْجَدُّ لَكِنَّ لِحَقْلِي حَبْلًا مَالِيًا

امام جامع التوبة بالمنستير

سأحي	تسلمي	خليل
		
أَحْسَبُ الْقَتْلَ الْبَالِي	أَحْسَبُ الْقَتْلَ بَأَقْلَ عَدِي	أَحْسَبُ الْقَتْلَ الْبَالِي
مي	معي من القلح 63 مي	الناقصة 98 مي

٧) فَحْ أَلْعَلَامَةُ < = > حَكَانَ النُّقْطَةُ



$57 - 63 = 98$   
 $57 - 98 = 63$   
 $63 - 98 = 57$

تَعْبِدُ سَلَمِي 63 مي تَرِيدُ شِرَاءَ قِطْعَةٍ حَلَوِي  
نَصَمًا 75 مي

٨) قُلْ تَسْتَطِيعُ شِرَاءَ مَا؟

لَأَن

زَادَ مَا أَحْوَهَا خَلِيلٌ 20 مي

٩) كَمْ أَهْبَحَ عِنْدَهَا؟

+

مكتبة الخدمات

امام جامع التوبة بالمنستير



اكتب العدد المناسب

٥	82
---	----



٧٠	١
----	---



3٠	١
----	---



أكمل

$$20 + \dots = 25$$

$$\dots + 60 = 63$$

$$\dots + 30 = 32$$

$$7 + \dots = 47$$

اكتب العدد المناسب

٨٢	١
----	---



٧٠	١
----	---



34	١
----	---



أكمل

$$20 + \dots = 25$$

$$\dots + 60 = 63$$

$$\dots + 30 = 32$$

$$7 + \dots = 47$$



اكتب العدد المناسب

82	١
----	---



70	١
----	---



34	١
----	---



أكمل

$$20 + \dots = 25$$

$$\dots + 60 = 63$$

$$\dots + 30 = 32$$

$$7 + \dots = 47$$

مكتبة الخدمات

امام جامع التوبة بالمنستير