

الإسم و اللقب: / القسم:

① بمناسبة عيد ميلاد أمي خرج الأبطال إلى
المغارة لشراء القديّة

الضاعف	الضامن
خاتم	د. 24
عقد	د. 84
خروف	د. 45

اتفق الأبطال على شراء الخاتم والخروف
ابحث عني التمني

دعم

دعم

② بعد شراء القديّة بقي للأبطال مبلغ ماليّة

أبحث عني قيميّة
القطيع التي بقيت لأحمد
بقي لزين 56 مبي
أبحث القطيع التي تمثله
بقي لزيد 84 مبي
أبحث هذا المبلغ

دعم


دعم



③ اَمْتَدْعِي الْأَطْفَالَ بَعْضَ الْأَصْدِقَاءِ وَالْأَقْرَابِ
 فَقَدِمْنَ 16 امْرَأَةً وَ10 بَنَاتًا وَ23 وَلَدًا
 مَا هُوَ عَدَدُ الصُّيُوفِ؟

④ أَرْتَبِي أَعْدَادَ الْعَمَلِيَّةِ تَصَاعُدِيًّا

⑤ قَدِمَ الْأَبُ بَاقِيَةً جَمِيلَةً مِنَ الْأَزْهَارِ
 أَجْمَعِ حَجْمُونَةِ الْأَزْهَارِ وَأَعْمُرِ الْجَدُولَ



ع	ا

⑥ قَدِمَ الصُّيُوفُ الْمَهْدَايَا فَكَانَتْ 25 قَارُورَةَ عِطْرِ
 وَ11 طَائِرًا بِهِ صُورٌ جَمِيلَةٌ وَ10 زَهْرَاتٍ
 أَجِيبِ السُّؤَالَ الْمُنَاسِبَ

* مَا هُوَ عَدَدُ الْمَهْدَايَا؟
 * مَا هُوَ عَدَدُ الْأَزْهَارِ؟

7) أجب عن السؤال السابق

دس 4

□

8) بعد انتهاء الحفل دخل الأطفال غزقتهم

دس 4

□

لمنجزوا دروسهم

أفان

38

90

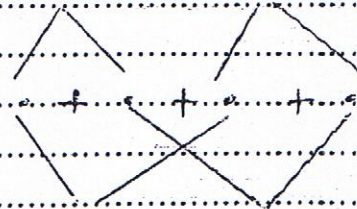
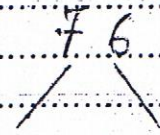
30 + 46

40 + 26

74

47

9) أفك باسئد مال شجرة الحساب



دس 4

□

جدول باسناد الأعداد

دس 1	دس 2	دس 3	دس 4	انعدام التناظر
0	0	0	0	
2	1	3/2/1	1	دون التناظر الأدنى
3	2	6	2	التناظر الأدنى
5	3	9/8/7	3	التناظر الأعلى

$76 + 76 = 76$