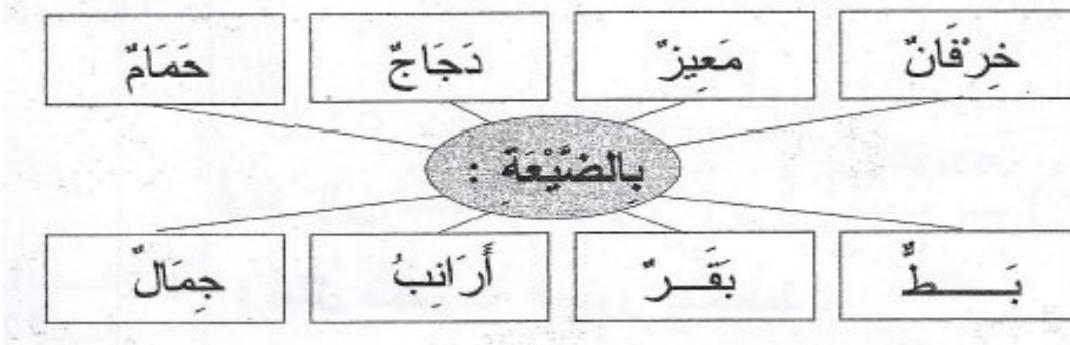


هذه يسر تزور ضيعة عمها . . ما أسعدها و هي تتعرّف إلى الحياة في الريف.



1-1 / أتعرف إلى حيوانات الضيعة و أشطب الخطأ.



مع 1

مع 2


1-2 / أضع (x) تحت صورة كل إنسان في المشهد.

مع 1

مع 2

1-3 / ألون الجواب السليم:

مع 1




ع 4



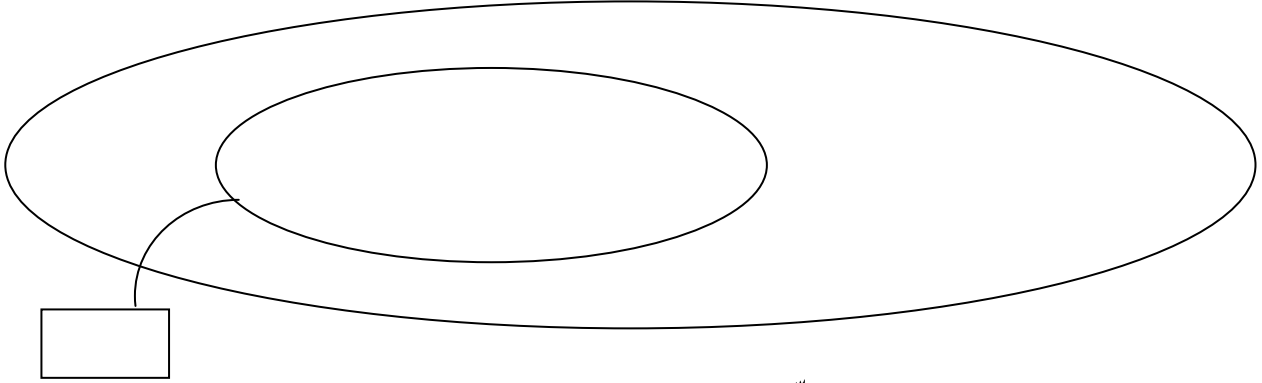


هذه مخططات لبعض ما نراه في ضيعة عم يسر.



أرمز للخروف بـ  $\triangle$  و ارمز إلى المعزاة بـ  $\square$   
2-2/ أمّل تمثيل مجموعة الغنم بالمخطط .

2-3/ أجزئ المجموعة و أكتب كمّ كل مجموعة جزئية:



أرمز للحمامة بـ  $\circ$  وإلى البطة بـ  $\times$  و إلى الديك بـ  $\triangle$   
2-4/ أمثل مجموعة الطيور بمخطط .

2-5/ أجزأ المجموعة و أكتب كمّ كل مجموعة جزئية.

### جدول إسناد الأعداد

| معيّار التميّز | معايير الحد الأدنى |      |      |     |     |      |     |     |     |      | مستويات التملك    |
|----------------|--------------------|------|------|-----|-----|------|-----|-----|-----|------|-------------------|
|                | مع4                |      | مع2ب |     |     | مع2أ |     |     | مع1 |      |                   |
| مع5            |                    |      |      |     |     |      |     |     |     |      | انعدام التملك     |
| 0              | 0                  |      |      |     |     |      |     |     |     |      | التملك دون الأدنى |
| 2              | 0.5                | 0.25 | 1.5  | 1   | 0.5 | 1.5  | 1   | 0.5 | 0.5 | 0.25 | التملك الأدنى     |
| 3              | 1                  | 0.75 | 3    | 2.5 | 2   | 3    | 2.5 | 2   | 1   | 0.75 | التملك الأدنى     |
| 4              | 1.5                | 1.25 | 4.5  | 4   | 3.5 | 4.5  | 4   | 3.5 | 1.5 | 1.25 | التملك            |