


الدرجة: الأولى السنة: الأولى	تقييم مكتسبات التلاميذ في الرياضيات الملف 1-1 (الفضاء)	المدرسة الابتدائية الإصلاح
العدد المسند:	الرقم:	الاسم و اللقب:

اِحْتَفَلَتْ كَرِيمَةٌ بِعِيدِ مِيلَادِهَا فَجَاءَهَا أَصْدِقَاؤُهَا وَحَمَلُوا مَعَهُمُ الْهَدَايَا.



التعلیمة 1-1 حد

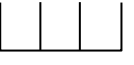
قَدِمَ الْأَرْنَبُ وَ السُّلْحَفَاءُ وَ الْقِطَّةُ.

* قَفَزَ الْأَرْنَبُ فَوْقَ الطَّاوَلَةِ.

* وَقَفَتِ السُّلْحَفَاءُ تَحْتَ الطَّاوَلَةِ.

* أَمَّا الْقِطَّةُ فَوَقَفَتْ عَلَى يَسَارِ كَرِيمَةَ.

أَرْسُمُ كُلَّ حَيَوَانٍ فِي الْمَكَانِ الْمُنَاسِبِ لَهُ.





مع 1

وَضَعَ الْأَرْنَبُ هَدِيَّتَهُ فَوْقَ الطَّاوَلَةِ. أَمَّا السُّلْحَفَاءُ فَوَضَعَتْهَا تَحْتَ الطَّاوَلَةِ.


التعلیمة 2-2 حد

* أَلْوَنُ بِالْأَحْمَرِ هَدِيَّةَ الْأَرْنَبِ.

* أَضَعْ هَدِيَّةَ السُّلْحَفَاءِ دَاخِلَ خَطِّ مُغْلَقٍ.



مع 4 أ




مع 4 ب

دَخَلَتْ الْأُمُّ وَقَدْ حَمَلَتْ مَعَهَا كَعْكَةً شَهِيَّةً وَوَضَعَتْهَا فَوْقَ الطَّاوَلَةِ بِجَانِبِ الْهَدَايَا.

التعلیمة 3-3 حد

* أَبْحَثْ عَنِ الْكَعْكَةِ وَالْوَلُّهَا.

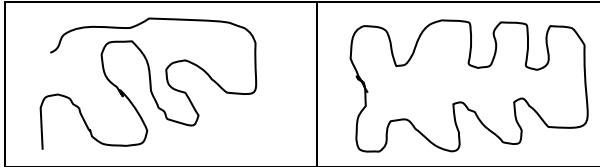


مع 4 أ

التعلیمة 4-4 حد

بَعْدَ الْإِنْتِهَاءِ مِنْ عِيدِ الْمِيلَادِ خَرَجَتْ كَرِيمَةُ مَعَ أَصْدِقَائِهَا إِلَى الْحَدِيقَةِ لِلْعِب. فَرَسَمُوا خَطًّا مُغْلَقًا.

* أَضَعْ عَلَامَةَ (x) تَحْتَ الْخَطِّ الْمُغْلَقِ.



مع 4 ب

أَعْمَضَتْ كَرِيمَةً عَيْنَيْهَا وَبَقِيَتْ دَاخِلَ الْخَطِّ الْمُعْلَقِ أَمَّا أَصْدِقَاؤُهَا فَقَدْ اخْتَبَوْا.

- اخْتَبَأَ الْأَرْزَبُ تَحْتَ الزَّهْرَةِ.
 - اخْتَبَأَتْ السُّلْحَفَاءُ بِجَانِبِ الْمَنْزِلِ.
 - أَمَّا الْقَطُّ فَقَدْ اخْتَبَأَ فَوْقَ الشَّجَرَةِ.
- * أَضَعُ عَلَامَةً (x) لِأَحَدِ مَكَانِ الْأَرْزَبِ.



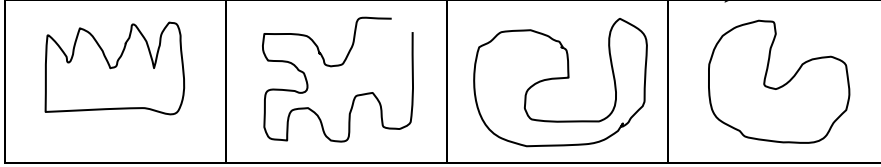
مع4ب

التعليمية 5 دد

بَعْدَ الْإِنْتِهَاءِ مِنَ اللَّعْبِ قَطَفَ الْأَطْفَالُ مَجْمُوعَةً مِنَ الزُّهُورِ ثُمَّ جَلَسُوا عَلَى الْعُشْبِ وَكَوَّنُوا بِهَا خَطًّا مَفْتُوحًا!.

* أَبْحَثْ عَنِ الْخَطِّ الْمَفْتُوحِ وَأَلَوْنُهُ بِالْأَحْمَرِ.

مع4ب



التعليمية 6 دد

أَضَعُ نَفْسِي مَكَانَ الْأَصْدِقَاءِ ثُمَّ أَرْسُمُ خَطًّا مَفْتُوحًا عَلَى يَسَارِي وَخَطًّا مُغْلَقًا عَلَى يَمِينِي.

مع4ب

--	--

جدول إسناد الأعداد

التميز	معايير الحد الأدنى			
	مع4ب	مع4أ	مع1	
5	0	0	0	انعدام التملك (---)
2.5	1.5	2	1.5	دون التملك الأدنى (+--)
2.5	3	4	3	التملك الأدنى (++)
5	4.5	6	4.5	التملك الأقصى (++++)