



البطل (ة): .....

الحساب الذهني:

$$. = 5 + 2$$

$$. = 4 + 6$$

التَّعليمَة 1: أَحْسَبْ :

التَّعليمَة 2: أَكْتُبْ :

- العَدَدُ الَّذِي يَلِي مُبَاشَرَةً 14 هُوَ .....
- العَدَدُ الْمَحْصُورُ بَيْنَ 9 و 11 هُوَ .....
- العَدَدُ الَّذِي يَسْبِقُ مُبَاشَرَةً 18 هُوَ .....

التَّعليمَة 3: أَرْتَبْ الأَعْدَادَ التَّالِيَةَ تَصَاعُديًّا :

.	.	.
.	.	.

15 - 10 - 12



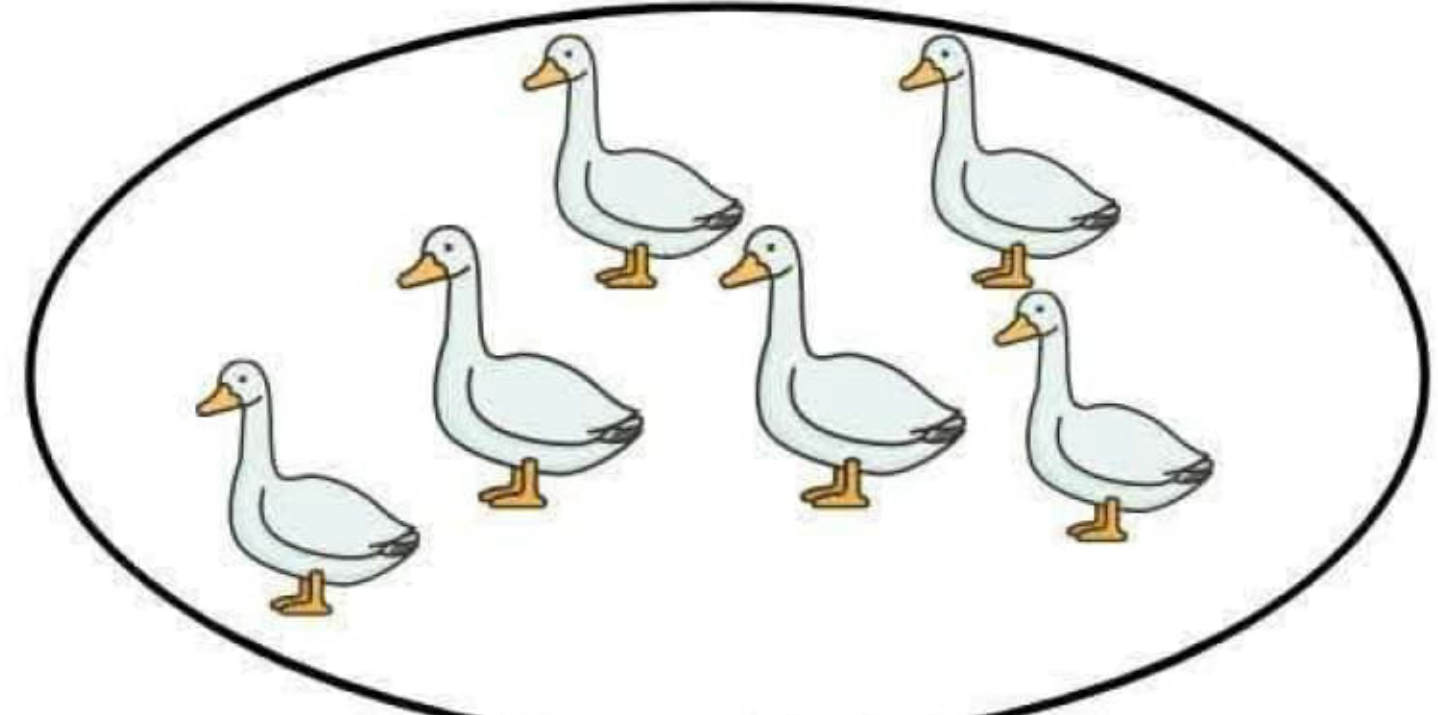
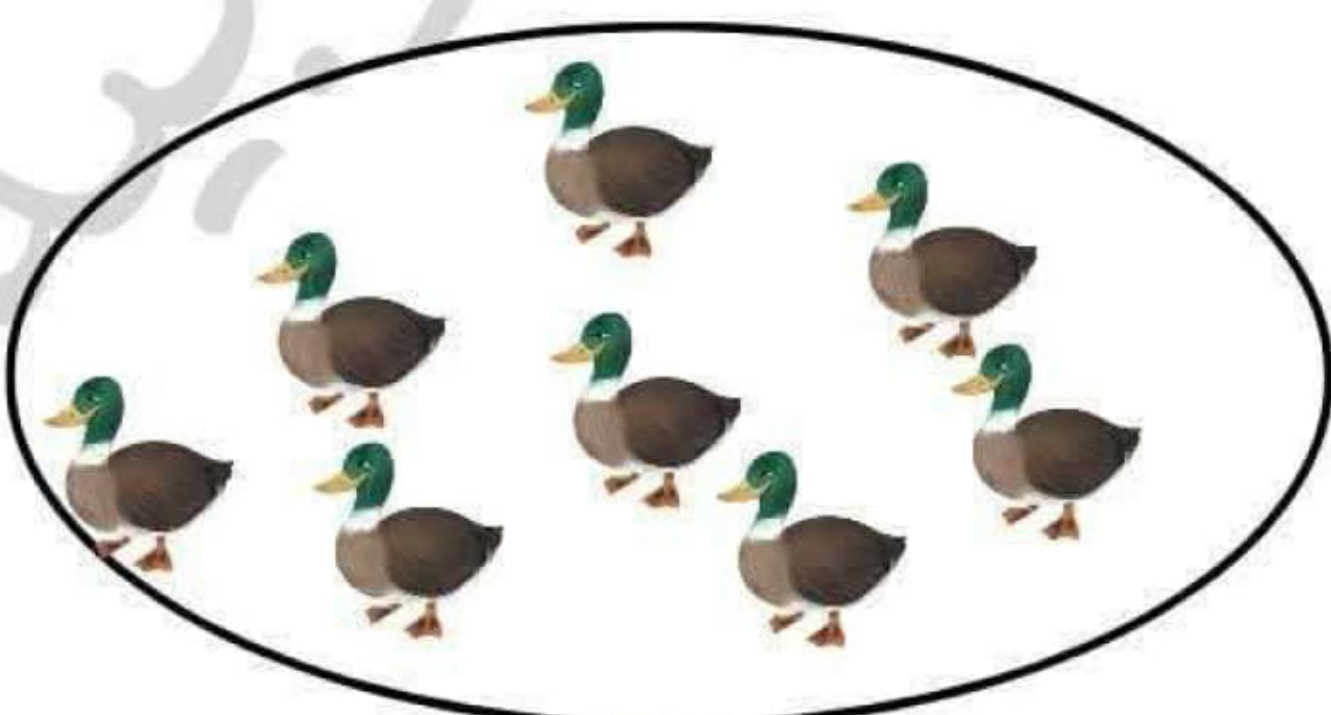
16 - 4 - 19

التَّعليمَة 4: أَحْسَبْ الْمَبْلَغَ الْمَالِي التَّالِي :

..... = 2 5 5 مي

**السند 1:** نَظَّمَتْ مَدْرَسَةُ "الأنس" رَحْلَةً تَرْفِيهِيَّةً إِلَى حَدِيقَةِ الْحَيَوَانَاتِ "أفريقيّا" أَثْنَاءَ التَّجَوُّالِ شَاهِدَ الْأَطْفَالُ مَجْمُوعَةً مِنَ الْبَطِّ وَالْإِوَزِ وَهِيَ تَسْبَحُ .

التَّعليمَة 1: أَحْسَبْ مَجْمُوعَةَ الْبَطِّ وَالْإِوَزِ :








التَّعْلِيمَةُ 2: أَحْصِبْ الْعَدَدَ الْجُمْلِيِّ لِطُيُورِ الْبَطِّ وَالْإِوَرِّ مَعًا :

$$. = . + .$$

التَّعْلِيمَةُ 3: ارْتَبِ أَعْدَادَ الْعَمَلِيَّةِ تَنَازُلِيًّا :

$$. . .$$

السَّنَدُ 2: وَاصِلَ الْأَطْفَالِ التَّجَوَّالِ فِي حَدِيقَةِ الْحَيَوَانَاتِ فَشَاهَدَ سَالِمٌ مَجْمُوعَةً مِنَ الْأَغْنَامِ دَاخِلَ حَاجِزٍ مُخَصَّصٍ لَهَا .



التَّعْلِيمَةُ 1: أَكُونُ مَجْمُوعَاتٍ جُزْئِيَّةً وَأَكْتُبُ كَمَّ كُلِّ مِنْهَا :

التَّعْلِيمَةُ 2: أَقَارِنُ أَعْدَادَ كُلِّ مَجْمُوعَةٍ تَصَاعُدِيًّا :

$$. . .$$

التَّعْلِيمَةُ 3: أَحْصِبْ عَدَدَ النَّعَاجِ وَالْخِرْفَانِ الْكَبِيرَةِ مَعًا :

$$. = . + .$$

التَّعْلِيمَةُ 4: أَحْصِبْ عَدَدَ النَّعَاجِ وَالْخِرْفَانِ الصَّغِيرَةِ مَعًا :


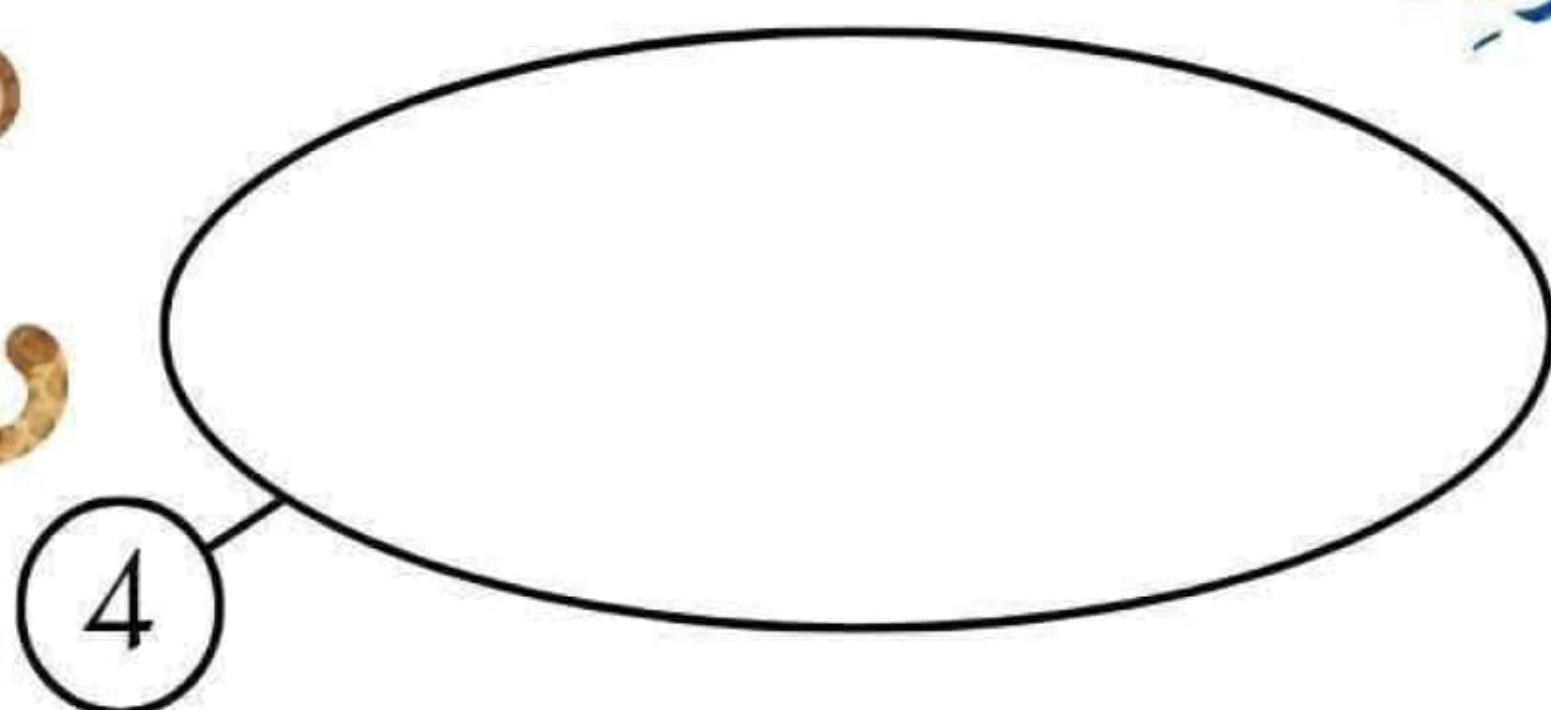
$$. = . + .$$





**السند 3:** نَظَرَ الْأَطْفَالُ إِلَى النَّاحِيَةِ الْأُخْرَى فَصَاحَتْ عَلِيَاءُ: " أَنْظُرُوا يَا رِفَاقِي هَذِهِ قَرْدَةٌ وَفُهُودٌ كُلُّ مَجْمُوعَةٍ مِنْهَا فِي قَفْصٍ هَيَّا نَقُومُ بَعْدَهَا " صَاحَ مُرَادٌ يُوجَدُ فِي الْقَفْصِ الْأَوَّلِ 8 قَرْدَةٌ وَيُوجَدُ فِي الْقَفْصِ الثَّانِي 4 فُهُودٌ "

**التَّعْلِيمَةُ 1:** أَمِثِلْ مَجْمُوعَةَ الْقَرْدَةِ وَالْفُهُودِ :



**التَّعْلِيمَةُ 2:** أَحْسِبْ الْعَدَدَ الْجُمْلِي لِلْحَيَوَانَاتِ مَعًا :









$$\text{.} = \text{.} + \text{.}$$

**التَّعْلِيمَةُ 3:** ارْتَبْ أَعْدَادَ الْعَمَلِيَةِ تَنَازُلِيًّا :

•	•	•
---	---	---



**السند 3:** عِنْدَ الْغَدَاءِ أَخْرَجَ كُلُّ طِفْلِ مَا لَدَيْهِ مِنْ نُقُودٍ .

مي .....					سَالِمٌ
13 مي					عَلِيَاءُ
15 مي					مُرَادٌ

**التَّعْلِيمَةُ 1:** أَحْسِبْ مَبْلَغَ سَالِمٍ :

**التَّعْلِيمَةُ 2:** أَمِثِلْ مَبْلَغَ عَلِيَاءَ بِ 3 قِطْعٍ :

**التَّعْلِيمَةُ 3:** اكْمِلْ تَمَثِيلَ مَبْلَغِ مُرَادٍ :

كتاب لتألق في الإمتحانات





• أَرَادَ مُرَادُ شِرَاءِ لُمُجَةٍ بِالمَبْلَغِ المُتَوَفِّرِ لَدَيْهِ.



مُرَطَّبَاتٍ  
14 مي



شُكْلَاطَةٌ  
18 مي



عَصِيرٍ  
16 مي

التعليمة 4: أُرَتِّبُ أَثْمَانَ البَضَائِعِ حَسَبِ العَلَامَةِ :

. > . > .

التعليمة 5: مَا هِيَ اللُّمُجَةُ الَّتِي يُمَكِّنُ لِمُرَادٍ شِرَائُهَا ؟ وَ لِمَاذَا ؟

يُمَكِّنُ لِمُرَادٍ شِرَاءَ عَصِيرٍ شُكْلَاطَةٍ مُرَطَّبَاتٍ

لَآنَ.....

